

2023年度 須磨学園夙川中学校入学試験

社 会

第 1 回

(注 意)

解答用紙は、この問題冊子の中央にはさんであります。まず、解答用紙を取り出して、受験番号シールを貼り、受験番号と名前を記入しなさい。

1. すべての問題を解答しなさい。
2. 解答はすべて解答用紙に記入しなさい。
3. 試験終了後、解答用紙のみ提出し、問題冊子は持ち帰りなさい。

学校法人 須磨学園 夙川中学校

1

次は日本の歴史に登場する人物を説明した文です。後の各問いに答えなさい。

- ① 私は各地で農民のために仏教を広めたり土木技術を用いて農民を助けた僧侶です。
a 天皇から大仏造立の協力を求められました。
- ② 貴族の私は朝廷内で高い位につき、政治に強い影響力を持ちました。私は宇治に阿弥陀仏をまつる平等院を建立しました。
- ③ 私は將軍家の血筋が断絶したのを見て、幕府を倒すために京都でb 拳兵を企てましたが失敗しました。
- ④ 大名の対立やききんにより社会が不安定になる中、私のあとを継ぐ將軍職をめぐり対立が起き、大きな戦いに発展しました。
- ⑤ 江戸幕府の役人だった私は、幕府のききんへの対応に不満を持ち、大阪で反乱を企てましたが失敗に終わりました。
- ⑥ 私は連合艦隊を率いて、日本海海戦でロシアのバルチック艦隊と戦い、勝利をおさめました。

問1 下の図は、文章①の「私」が作成した日本で最も古いと言われる地図です。「私」と「私」に大仏造立を命じた下線部aの天皇名を答えなさい。



問2 文章②の人物とこの一族が行った政治を説明する次の文のうち、まちがっているものをア～エから1つ選び、記号で答えなさい。全て正しければ「オ」を答えなさい。

- ア この一族の先祖には、大化の改新を進めた中大兄皇子がいる。
- イ 天皇が幼いときには摂政、成人になれば関白の位につき、政治を支配した。
- ウ 白河上皇が院政を始めることで、一族の政治支配は弱まった。
- エ この一族は、有力な貴族を地方へ追放したり、娘を天皇の^{きさき}后として関係を深め、政治権力を独占していった。

問3 下線部bについて、次の文は挙兵後の幕府政治の変化について説明しています。このうち正しいものをア～エから1つ選び、記号で答えなさい。

- ア 朝廷や西国武士を監視するため、幕府は京都に六波羅探題を設置した。
- イ 北条氏一族が執権の位につき、幕府の権力を独占した。
- ウ 幕府は、地方に守護と地頭を派遣し支配を広めた。
- エ 幕府は軍勢を派遣し奥州藤原氏を倒し、東北地方への勢力を拡大した。

問4 文章④の「私」は右の建物を
つくったことでも有名です。
「私」の名前を漢字で答え
なさい。



問5 文章⑤の江戸幕府の政治について、次のア～エは江戸幕府の政治を説明したものです。古い順に並べかえ、記号で答えなさい。

ア 徳川綱吉が定めた「生類あわれみの令」により社会が混乱した。

イ 徳川吉宗は、幕府財政の立て直しのため、足高の制や上米の制を定めた。

ウ 徳川家光の時代、ポルトガルの来航を禁止し、オランダ商館を出島に移し鎖国が完成した。

エ 老中の田沼意次は、株仲間の奨励^{しょうれい}や新田開発などの商業や経済をさかんにする政策をすすめた。

問6 文章⑥にある「私」の肖像画^{しょうぞうが}を次のア～エから1つ選び、記号で答えなさい。

ア



イ



ウ



エ



2

次は日本の各時代の史料の一部です。これらを読み、後の各問いに答えなさい。

- A 聞くところによると、養老七年の規定では、墾田は期限が終わればほかの土地と同様に国に収められることになっているが、このために農民は意欲を失い、せっかく土地を開墾しても、また荒れてしまうという。今後は土地の私有を認め、三世一身を論ずることなく、永久に国に収めなくてもよい。
- B 渡良瀬川流域の村々では、作物は根から腐って枯れてしまい、川の魚は白い腹をみせているのです。……() 銅山が鉱毒を流すからです。……政府はただちに() 銅山に鉱石を掘ることをやめさせ、銅山の経営者は被害に対して償いをすべきです。
- C 一、大名は、学問と武芸にはげむこと。
一、大名は、毎年四月に参勤すること。
一、五百石以上の船は造ってはいけない。
- D 国民所得倍増計画は、速やかに国民総生産を倍増して、雇用の増大による完全雇用の達成をはかり、国民の生活水準を大幅に引き上げることを目的とするものでなければならない。
- E 一、清国は朝鮮が独立国であることを認める。
一、清国は遼東半島、台湾、ポンフー諸島などを日本にゆずる。
一、清国は日本に賠償金として二億兩を支払う。
- F 楽浪郡の海のかなたに倭人が住んでいて、100余りのクニに分かれている。定期的に貢ぎ物を持って、あいさつに来ているという。
- G 私どもが謹んで、現在の政権がだれの手にあるかを考えてみると、上は天皇にあるのでもなく、下は人民にあるものでもない。ただ官僚だけが独占している。……そこでこれを救う方法を考えてみると、ただ天下の人民の言論の道を開くほかはない。
- H このごろ都ではやるもの、夜討ち強盗にせ綸旨、召人早馬虚騒動、……

問1 史料Aは天皇からの命令です。これを何といいますか。漢字7文字で答えなさい。

問2 史料Bの空らんには銅山の名前が入ります。その名前を答えなさい。

問3 史料Dを発表した首相名を次から1つ選び、記号で答えなさい。

ア 池田勇人 イ 吉田茂 ウ 鳩山一郎 エ 佐藤栄作

問4 史料Eは条約内容を表しています。この条約が結ばれる以前の出来事を次から1つ選び、記号で答えなさい。

ア 日英同盟 イ 甲午農民戦争 ウ 八幡製鉄所の創業
エ 全国水平社の設立

問5 史料Fについて、この史料が書かれた時期と史料名の正しい組み合わせをア～エから1つ選び、記号で答えなさい。

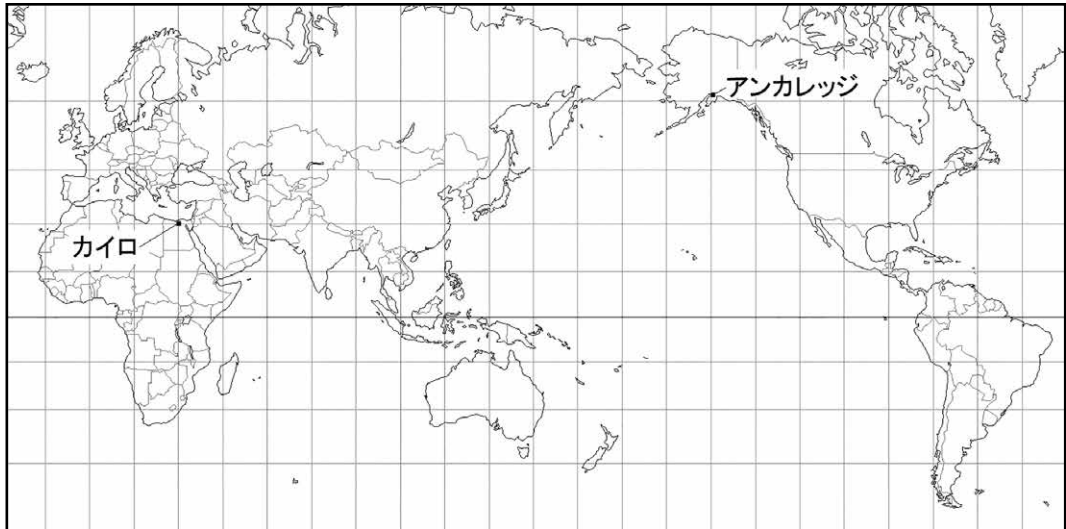
ア 紀元前1世紀 『漢書』地理志 イ 紀元後1世紀 『後漢書』東夷伝
ウ 紀元後3世紀 『魏志』倭人伝 エ 紀元後4世紀 『宋書』倭国伝

問6 史料Gについて、この史料は新聞広告に記載された文章です。これ以降、国会の設立を求める運動がさかんになります。この運動を何といいますか。解答らんに合わせて、漢字4文字で答えなさい。

問7 A～Hの史料を時代の古い順に並べかえたとき、4番目にくるものを記号で答えなさい。

3 次の地理に関する各問いに答えなさい。

問1 次の地図は、メルカトル図法で描かれた世界地図の一部です。地図中のカイロ（北緯30度 東経30度）とアンカレッジ（北緯60度 西経150度）の距離として近いものを下のア～エから選び、記号で答えなさい。



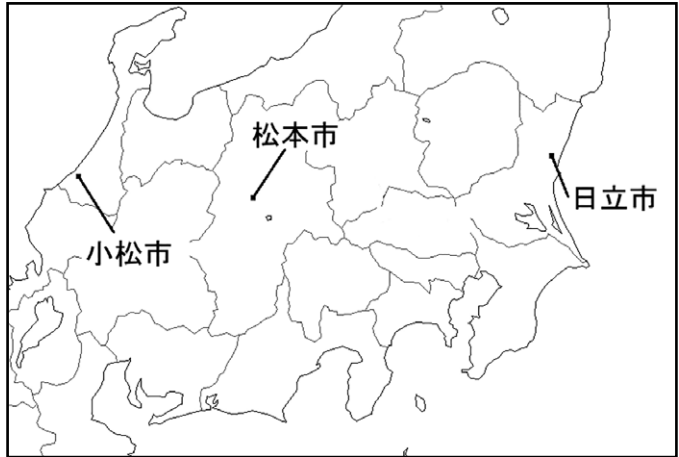
ア 7,000km

イ 10,000km

ウ 20,000km

エ 30,000km

問2 次の地図中の3つの都市（小松市・松本市・日立市）はほぼ同じ緯度に位置しています。下のア～ウは各都市の2月と8月の平均気温と降水量を表しています。このうち、松本市の表をア～ウから選び、記号で答えなさい。



ア

	2月	8月
平均気温	4.4	24.7
降水量	57.8	147.0

イ

	2月	8月
平均気温	0.2	24.7
降水量	43.5	92.1

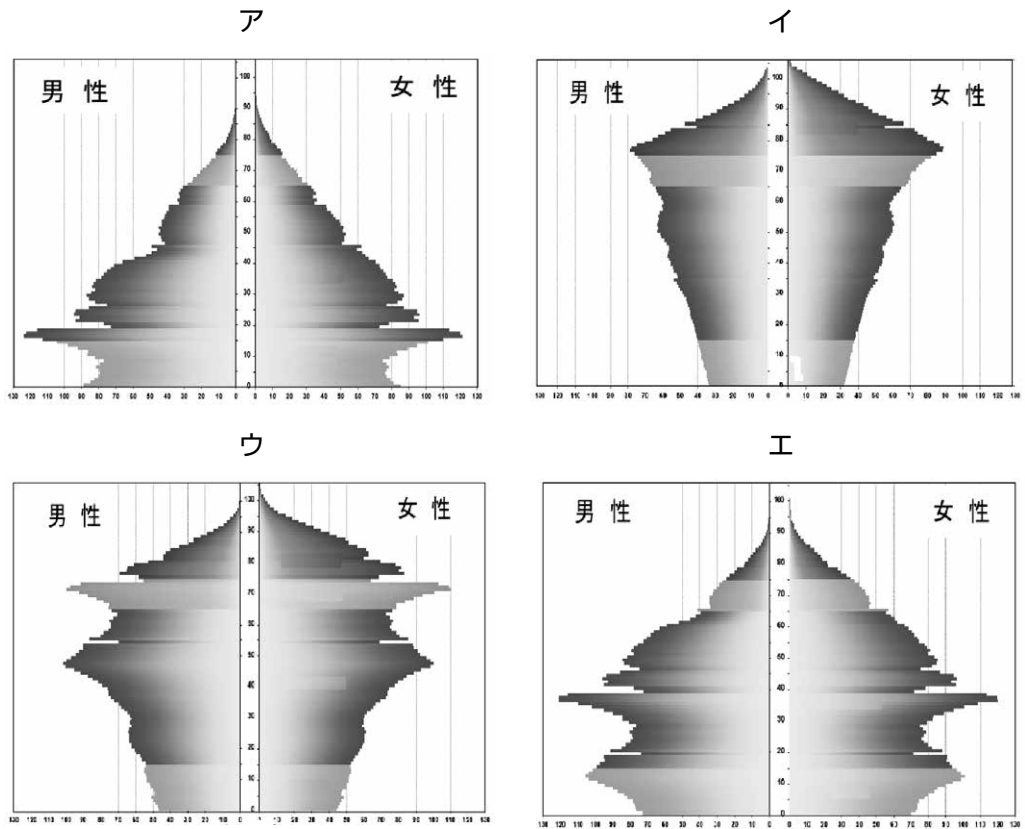
ウ

	2月	8月
平均気温	3.6	26.5
降水量	148.1	123.4

「weather.time-j.net HP」から作成 単位 気温℃ 降水量mm

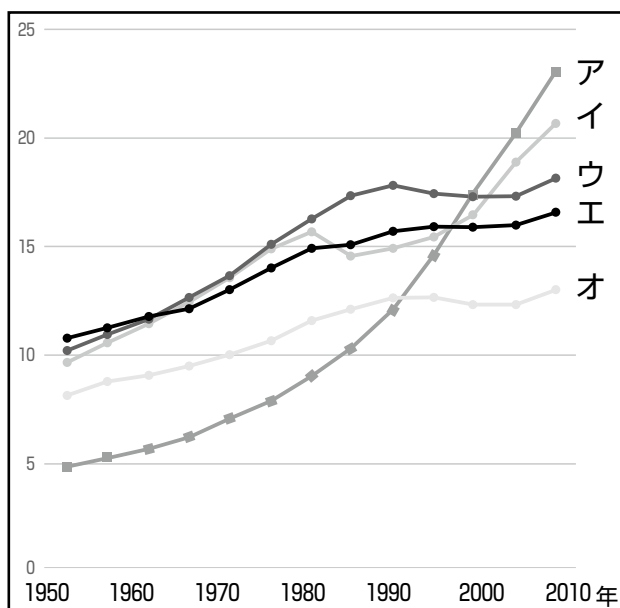
問3 現在日本の人口は約1億2,600万人です。戦後人口増加を続けてきましたが2008年をピークに、人口減少に転じました。日本の人口に関する各問いに答えなさい。

(1) 次の人口ピラミッドは日本の1965年、1985年、2020年、2050年(予想図)の人口構成を表しています。時代の古い順に並べかえて、記号で答えなさい。



出典 「国立社会保障・人口問題研究所HP」から 単位 万人

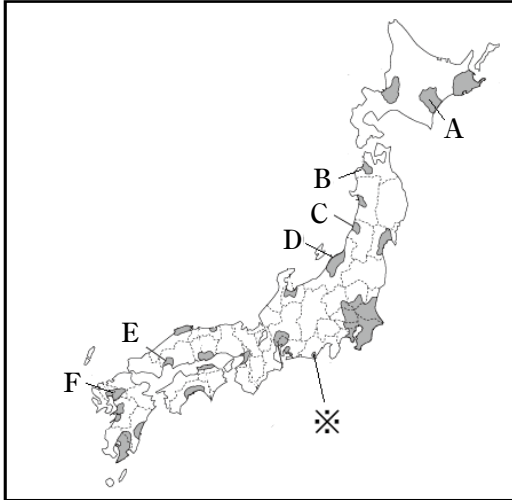
- (2) 次のグラフは、日本、アメリカ合衆国、イギリス、ドイツ、スウェーデンの5カ国で65歳以上の高齢者が全人口に占める割合の推移を表したものです。このうち日本を示すものをア～オから1つ選び、記号で答えなさい。



出典 「内閣府HP」から作成 単位 %

問4 次の地図は、農業がさかんな平野・台地を表しています。地図を見て、各問いに答えなさい。

(1) 地図中のA～Fの平野とそこを流れる河川の組み合わせとして正しいものをア～カから全て選び、記号で答えなさい。



- | | | | |
|---|---|------|-----|
| ア | A | 石狩平野 | 石狩川 |
| イ | B | 津軽平野 | 岩木川 |
| ウ | C | 秋田平野 | 北上川 |
| エ | D | 越後平野 | 最上川 |
| オ | E | 出雲平野 | 高梁川 |
| カ | F | 筑紫平野 | 筑後川 |

(2) 上の地図中の※印は牧ノ原台地を表しています。ここで栽培されているおもな農作物をア～エから1つ選び、記号で答えなさい。

- | | | | | | | | |
|---|------|---|-----|---|------|---|---|
| ア | 日本なし | イ | わさび | ウ | キャベツ | エ | 茶 |
|---|------|---|-----|---|------|---|---|

4 次の愛知県を説明する文を読み、後の各問いに答えなさい。

古くから城下町として発達した名古屋を中心に、愛知県は工業や農業などの①産業が発達し、多くの人々を集めています。工業では②自動車工業を中心とする機械工業や③金属工業が発達しています。農業では近郊農業がさかんで、キャベツなどの野菜や④電照菊などの栽培が有名です。また、愛知県には新幹線が通り、国際空港もあり、⑤陸海空の交通の要地でもあります。

問1 下線部①について、愛知県には様々な伝統工芸品が見られます。次のア～エから愛知県の伝統工芸品としてふさわしくないものを1つ選び、記号で答えなさい。

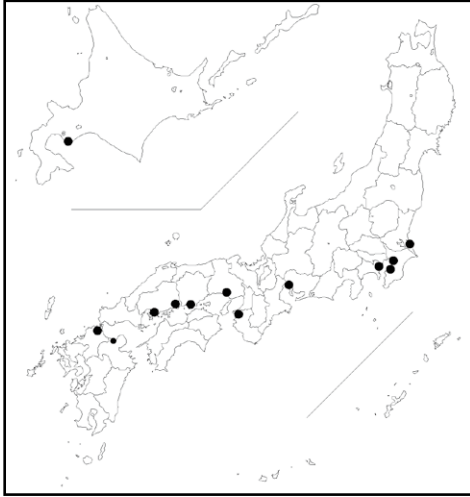
ア 常滑焼 イ 三河仏壇^{ぶつだん} ウ 美濃焼 エ 名古屋桐箆^{きりだんす}筒

問2 下線部②について、自動車の製造工程を正しく示したものを、次のア～カから1つ選び、記号で答えなさい。

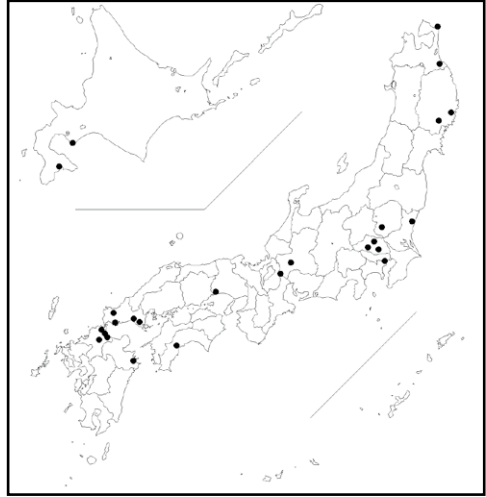
ア プレス → 溶接 → 組み立て → 塗装^{とそう}
イ プレス → 溶接 → 塗装 → 組み立て
ウ 溶接 → プレス → 塗装 → 組み立て
エ 溶接 → 組み立て → 塗装 → プレス
オ 塗装 → プレス → 組み立て → 溶接
カ 塗装 → プレス → 塗装 → 組み立て

問3 下線部③について、次の地図は、日本でさかんな工業のうち鉄鋼業、セメント工業、半導体工業、自動車工業の立地を表しています。このうち、鉄鋼業の立地を表すものをア～エから1つ選び、記号で答えなさい。

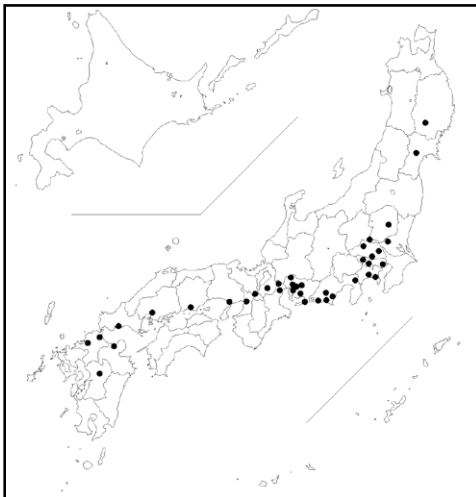
ア



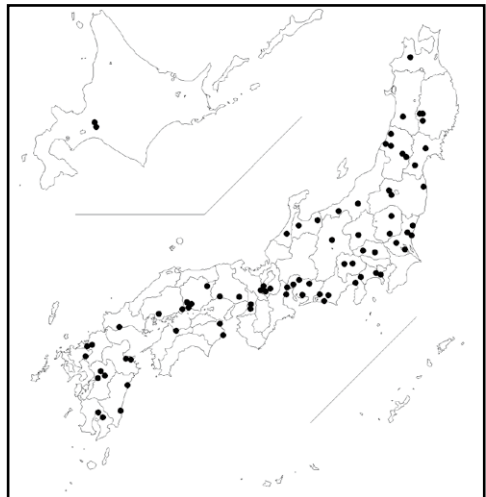
イ



ウ



エ

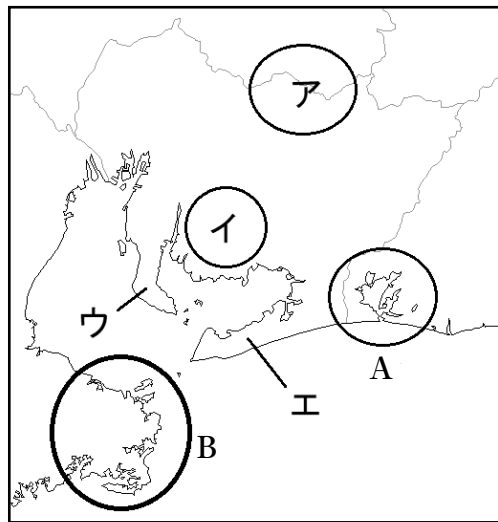


出典『日本国勢図会2021/22』から作成 2020年度の立地

問4 下線部④について、次の地図は愛知県とその周辺部を表しています。

- (1) 電照菊の栽培がさかんな場所を地図中のア～エから選び、記号で答えなさい。
- (2) 地図中のA・Bの場所では、それぞれ養殖業ようしょくがさかんです。A・Bで最もさかんな養殖業をア～カから1つ選び、それぞれ記号で答えなさい。

ア ウナギ イ ホタテ貝 ウ カキ エ のり
オ 真珠 カ タイ



問5 下線部⑤について、次のア～エの表は成田空港、東京港、名古屋港、大阪港での輸出と輸入の主な品目とその割合を表しています。このうち名古屋港を表すものを選び、記号で答えなさい。

ア

輸 出		輸 入	
コンデンサー	8.6	衣類	13.7
集積回路	8.3	肉類	6.7
プラスチック	5.3	家庭用電気機器	3.6
個別半導体	3.9	音響・映像機器	3.5
電気回路用品	3.9	金属製品	3.2

イ

輸 出		輸 入	
自動車部品	5.8	衣類	8.3
半導体等製造装置	5.2	コンピューター	6.2
コンピューター部品	5.1	肉類	4.5
プラスチック	4.7	魚介類	4.0
内燃機関	4.4	音響・映像機器	3.6

ウ

輸 出		輸 入	
半導体等製造装置	8.4	通信機	14.1
金	7.6	医薬品	13.3
科学光学機器	5.5	コンピューター	9.8
電気計測機器	3.8	集積回路	8.0
集積回路	3.8	科学光学機器	6.3

エ

輸 出		輸 入	
自動車	24.6	液化ガス	7.5
自動車部品	16.6	衣類	6.9
内燃機関	4.1	石油	5.8
電気計測機器	3.4	絶縁電線・ケーブル	5.1
金属加工機械	3.2	アルミニウム	3.9

出典 『日本国勢図会2021/22』 から作成 統計 2020年度 単位 %

問6 愛知県西部には低平な濃尾平野が広がっています。ここでは3つの大きな川が合流する地点に、周囲を堤防で取り囲んだ輪中集落かこが見られます。この3つの川としてふさわしくないものをア～エから1つ選び、記号で答えなさい。

ア 木曾川 イ 天竜川 ウ 揖斐川 エ 長良川

5 次の文は国際連盟と国際連合を説明しています。後の各問いに答えなさい。

悲惨な①第1次世界大戦が終わると、世界平和を実現するために1920年に国際連盟が設立されました。国際連盟の本部はスイスのジュネーブに置かれました。設立当初、アメリカ合衆国やソビエト連邦、敗戦国のドイツなどは加盟していませんでした。反対に②日本は設立当初から加盟し理事国を務めました。国際連盟の議決は全会一致制度を採用したため、国家間の利害が対立した時に議決が難しくなります。また、国際平和を乱す国への対抗手段は経済制裁しかありませんでした。

1945年に第2次世界大戦が終わると、ニューヨークを本部に、国際連合が設立されました。国際連合の仕組みを見ましょう。最も重要な③総会は全加盟国が出席し④世界の様々な問題に取り組みます。次に、世界平和の実現を目的とする安全保障理事会は⑤5常任理事国と10非常任理事国からなります。重要な案件の議決に関し、常任理事国には、1カ国でも反対すると否決される「拒否権」という特権が認められています。その他、国際司法裁判所、経済社会理事会、信託統治理事会、事務局という主要6機関からなります。

世界的なコロナ感染拡大や各地域での対立や移民・難民問題、地球温暖化などの環境問題が見られる世界情勢の中で、国際連合の価値はますます高まっています。

問1 下線部①について、次の文は第一次世界大戦を説明したものです。このうち、まちがっているものをア～エから1つ選び、記号で答えなさい。全て正しい場合は「オ」を答えなさい。

ア 戦争が始まると、日本は日英同盟を理由に参戦し、ドイツ領の山東半島を攻撃し占領しました。

イ 日本が好景気に見舞われ、特に造船業や海運業が著しく成長し、「船成金」と呼ばれる人もあらわれた。

ウ 戦争中にロシア革命が起きると、日本政府はシベリアへの出兵を決めた。

エ 講和会議の内容に不満を持った国民が東京の日比谷で暴動を起こした。

問2 下線部②について、日本はその後1933年に国際連盟を脱退^{だつたい}します。その理由として正しいものをア～エから1つ選び、記号で答えなさい。

- ア 満州国が承認^{しょうにん}されなかったから
- イ 日中戦争の責任^{ついきゅう}を追及されたから
- ウ 二・二六事件後の軍国主義を批判^{ひはん}されたから
- エ 日独伊三国軍事同盟を結んだから

問3 下線部③について、次の文は国際連合の総会を説明するものです。このうちまちがっているものをア～エから1つ選び、記号で答えなさい。

- ア 総会は全ての加盟国が出席する。議決方法は過半数の賛成で決議されるが、重要な案件は3分の2以上の賛成が必要となる。
- イ 総会では、毎年安全保障理事会の非常任理事国を5ヵ国ずつ選挙で選ぶ。
- ウ 総会閉会中に、世界平和を脅かす事態^{おびや}が発生し、安全保障理事会が機能していないとき、緊急特別総会^{きんきゅう}を開催^{かいさい}することができる。
- エ 1989年、総会で児童の権利の尊重、保護の必要性を認める「子どもの権利条約」が決議された。しかし、日本は未だこの条約に批准していない。

問4 下線部④について、1992年に国際連合で定められた「気候変動枠組条約^{わくぐみ}」に参加する国や地域が毎年集まり開く会議があります。今年は2022年11月8日よりエジプトで開催^{かいさい}されました。この会議は一般的に何と言われていますか。次のア～エから1つ選び、記号で答えなさい。

- ア サミット イ コップ ウ 国連環境計画
- エ ナショナルトラスト

問5 下線部⑤について、次のア～オから常任理事国を1つ選び、記号で答えなさい。

- ア フランス イ カナダ ウ ドイツ エ イタリア オ 日本

(余 白)

(余 白)

ここにシールを貼ってください。

--

受 験 番 号			

名 前	
-----	--

2023年度 須磨学園夙川中学校 入学試験 第1回 社 会

1

問 1	私		天皇		天皇	問 2	
問 3			問 4				※
問 5		→	→	→	問 6		

2

問 1						問 2	
問 3			問 4			問 5	
問 6				運 動	問 7		※

3

問 1			問 2				
問 3	(1)	→	→	→	(2)		※
問 4	(1)				(2)		

4

問 1			問 2			問 3	
問 4	(1)			(2)	A		B
問 5			問 6				※

5

問 1			問 2			問 3		問 4	
問 5									※

